

- 1 Buku berikut ditulis oleh Sun Tzu.

The Art of War

Apakah perkara yang boleh dimanfaatkan oleh masyarakat hari ini dari buku tersebut?

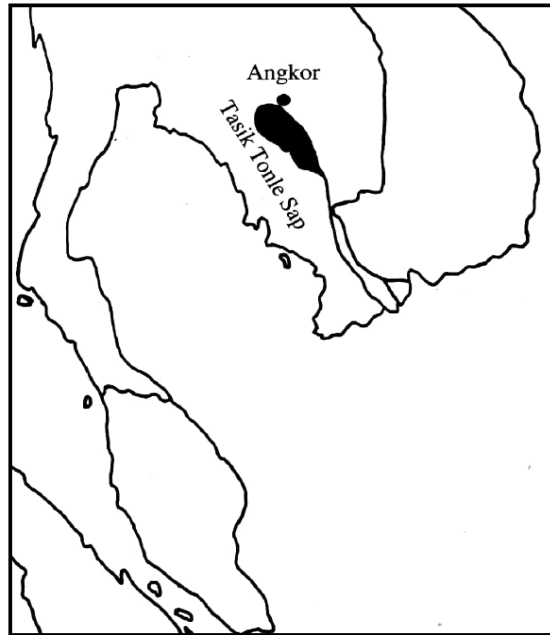
- A Sejarah awal manusia
 - B Rahsia kejayaan perniagaan
 - C Maklumat sistem pemerintahan
 - D Penerangan sistem kepercayaan
- 2 Tinggalan bandar Mohenjo - Daro buat pertama kalinya ditemui oleh R.D Banerji pada tahun 1921.

Sumber : http://archeology.about.com/od/mterms/qt/mohenjo_daro.htm

Antara yang berikut, yang manakah tinggalan bandar tersebut?

- A Tempat mandi awam
 - B Pusat latihan tentera
 - C Taman tergantung
 - D Aqueduct
- 3 Sistem demokrasi diwarisi daripada tamadun Yunani. Mengapakah sistem tersebut masih diamalkan sehingga kini?
- A Kekayaan individu dikawal
 - B Hasil bumi milik negara
 - C Kuasa rakyat diiktiraf
 - D Raja berkuasa penuh
- 4 Dalam buku *Republic*, Plato menghuraikan struktur kerajaan yang baik. Pernyataan manakah yang berkaitan dengan saranan Plato tersebut?
- A Negara diketuai ahli falsafah
 - B Memiliki angkatan tentera yang kuat
 - C Pelaksanaan undang - undang yang ketat
 - D Mengamalkan sistem pemerintahan teokrasi

5 Peta 1 menunjukkan kedudukan Tasik Tonle Sap.



Mengapakah tasik tersebut penting kepada masyarakat sekitar?

- I Perdagangan antarabangsa
 - II Benteng keselamatan
 - III Sumber pengairan
 - IV Bekalan protein
- A I dan II
 - B I dan IV
 - C II dan III
 - D III dan IV

6 Maklumat berikut berkaitan dengan pemerintah dalam tamadun dunia

Pemerintah	Kerajaan
Raja Indravarman I	Angkor
Firaun Hatshepsut	Mesir Purba

Apakah persamaan sumbangan kedua- dua pemerintah tersebut?

- A Memperkenalkan sistem perundangan
- B Meluaskan kegiatan perdagangan
- C Memperkuat sistem pertahanan
- D Meningkatkan hasil pertanian

- 7 Masyarakat Arab Jahiliah mengamalkan Sistem Kabilah.
Apakah kesan amalan sistem tersebut?

- I Perang kerap berlaku
- II Sistem beraja merosot
- III Pengaruh asing lemah
- IV Semangat assabiah muncul

- A I dan II
- B I dan IV
- C II dan III
- D III dan IV

- 8 Dialog berikut mungkin berlaku dalam kalangan pemimpin Quraisy di kota Makkah pada zaman Jahiliah.

Pemimpin A : Nampaknya Muhammad menolak semua tawaran kita

Pemimpin B : Ya, kita mesti bertindak tegas terhadap Muhammad

Berdasarkan dialog di atas, apakah tindakan yang diambil terhadap Nabi Muhammad SAW?

- A Merampas harta benda
- B Menangkap saudara terdekat
- C Memulaukan keluarga baginda
- D Mengenakan cukai yang tinggi

- 9 Perjanjian tersebut dimeterai oleh Nabi Muhammad SAW dengan penduduk Madinah.

- Perjanjian Aqabah I
- Perjanjian Aqabah II

Apakah kesan perjanjian tersebut?

- A Ancaman Rom dan Parsi berkurangan
- B Keseimbangan komposisi kaum
- C Genjatan senjata dikuatkuasakan
- D Penyebaran agama meluas

10 Bagaimanakah Nabi Muhammad SAW menyebarkan ajaran islam setelah mendidikan kerajaan Islam Madinah?

- A Menawarkan bantuan kepada wilayah lain
- B Meneroka kawasan petempatan baharu
- C Mengutus surat kepada kerajaan asing
- D Melaksanakan dasar perluasan kuasa

11 Maklumat berikut berkaitan dengan dasar politik yang dijalankan oleh kerajaan Turki Uthmaniyah di kawasan Balkan, Eropah.

- Diplomasi
- Toleransi

Apakah kesan pelaksanaan dasar tersebut?

- A Peluang pekerjaan bertambah
- B Agama islam mudah diterima
- C Sistem feudal tempatan diperkukuh
- D Hubungan dengan kerajaan kecil baik

12 Senarai berikut adalah tokoh pemerintah kerajaan Turki Uthmaniyah.

- Orhan I
- Murad I
- Mehmed II

Apakah persamaan sumbangan tokoh tersebut terhadap kerajaan Turki Uthmaniyah?

- A Menguatkuasakan Kanun Sulaiman
- B Merintis kegiatan penterjemahan kitab
- C Memajukan industri memproses kulit
- D Memperluas wilayah islam

13 Ulama berikut menulis kitab agama islam pada abad ke-17 di Aceh.

- Abdul Rauf Singkel
- Syeikh Nuruddin al-Raniri

Apakah perkara yang dibincangkan dalam penulisan mereka?

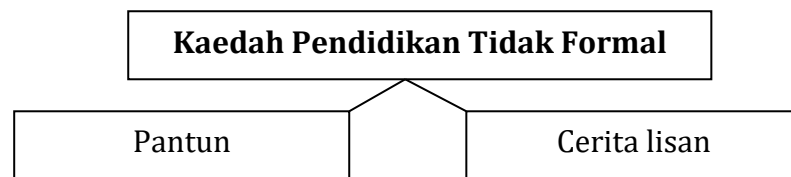
- A Kewajipan melakukan jihad
- B Memperkukuhkan jati diri bangsa
- C Mempertahankan budaya tempatan
- D Kewajaran menghargai jasa tokoh

- 14 Di Aceh terdapat sebuah kanun yang mempunyai ciri-ciri sebuah perlembagaan Islam yang dikenali sebagai Kanun Mahkota Alam.

Apakah yang terkandung dalam kanun tersebut?

- A Tanggungjawab pemerintah
- B Perbincangan masalah ibadah
- C Cara penerimaan ufti dari luar
- D Salasilah golongan bangsawan

- 15 Rajah 1 menunjukkan kaedah pendidikan tidak formal dalam masyarakat Melayu tradisional.



Apakah matlamat pendidikan tidak formal melalui kaedah tersebut?

- A Meningkatkan kreativiti dalam bidang persuratan
 - B Membentuk masyarakat berakhlak mulia
 - C Melahirkan generasi yang celik huruf
 - D Membina insan yang berkemahiran
- 16 Sistem sosial masyarakat Melayu berubah selepas kedatangan Islam. Apakah perubahan tersebut?
- A Menekankan persamaan taraf
 - B Mementingkan adat turun - temurun
 - C Mengutamakan pencapaian ekonomi
 - D Menggalakkan perkahwinan siasah

- 17 Akta berikut digubal di Britain semasa Revolusi Perindustrian.

- Akta Kilang
- Akta Lombong

Mengapakah akta tersebut digubal?

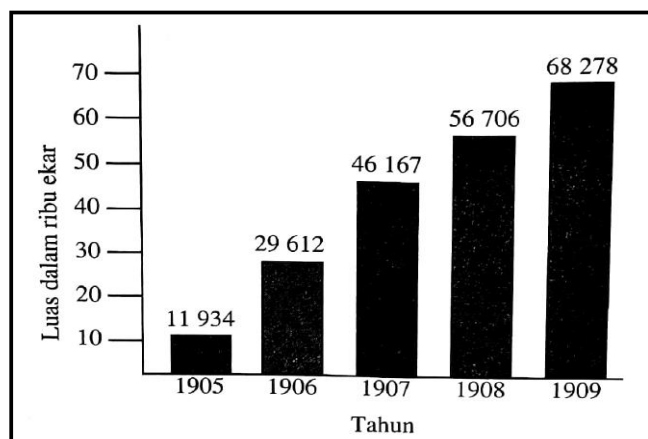
- A Melindungi nasib pekerja
- B Meningkatkan upah buruh
- C Memaksimumkan guna tenaga
- D membenarkan penubuhan persatuan

- 18 Revolusi Perindustrian menyebabkan Britain dan kuasa Eropah lain bertindak menguasai negara lain.

Mengapakah Britain dan kuasa Eropah lain bertindak demikian?

- A Meneroka pasaran baharu
- B Menghapuskan penindasan
- C Mengeksport tenaga kerja asing
- D Memajukan masyarakat peribumi

- 19 Graf 1 menunjukkan peluasan kawasan tanaman getah di negeri Perak pada awal abad ke-20.




Graf 1

Mengapakah peluasan kawasan tanaman tersebut berlaku?

- A Memulihkan kawasan bekas lombong
- B Pelaburan pembesar tempatan bertambah
- C Permintaan sektor perindustrian meningkat
- D Mengurangkan import dari negara jiran

- 20 Gambar 1 menunjukkan perkembangan teknologi perlombongan bijih timah di Tanah Melayu.



Apakah kesan perkembangan teknologi tersebut?

- A Kawasan pedalaman bertambah maju
- B Tanah untuk kegiatan pertanian terhad
- C Sumber asli negara dibolot syarikat asing
- D Taraf hidup rakyat peribumi meningkat

- 21 Maklumat berikut berkaitan dengan perjuangan nasionalisme melalui karya penulisan di Indonesia.

Tokoh Nasionalis	Hasil Karya
Raden Adjeng Kartini	<ul style="list-style-type: none"> • Habis Gelap Terbitlah Terang • Penulisan Seorang Puteri Jawa

Apakah mesej yang terkandung dalam karya tersebut?

- A Ketidakadilan sistem perundangan
 B Kelemahan sistem pemerintahan
 C Kemelesetan ekonomi negara
 D Kemunduran rakyat tempatan
- 22 Apakah kesan pengenalan undang - undang Barat semasa penjajahan British di Burma?
- A Ekonomi dikuasai oleh orang Cina
 B Kuasa golongan Mandarin bertambah
 C Pengaruh golongan agama merosot
 D Kemerdekaan negara dipercepat
- 23 Perkembangan teknologi telegraf pada abad ke-17, telah membantu kuasa - kuasa Barat menjalankan kegiatan imperialisme di Asia Tenggara.
- Bagaimanakah perkembangan tersebut membantu kegiatan imperialisme?
- A Menjimatkan kos
 B Mempercepat arahan
 C Mempermudah kegiatan perisikan
 D Membolehkan penyebaran propaganda
- 24 Apakah tindakan James Brooke di Sungai Rajang yang menyebabkan Syarif Masahor dan Datu Patinggi Abdul Gapur menentangnya?
- A Merampas hak mengutip cukai
 B Membawa masuk kaum imigran
 C Membersihkan kawasan petempatan
 D Membina pusat pentadbiran

- 25 Maklumat berikut berkaitan dengan jawatan yang diwujudkan oleh British di Tanah Melayu.

- | |
|---|
| <ul style="list-style-type: none">• Residen• Penasihat British |
|---|

Mengapakah British mewujudkan jawatan tersebut?

- A Melatih peribumi dalam pentadbiran
- B Memperbaiki taraf hidup penduduk
- C Mengekalkan kedaulatan negeri
- D Menguasai sumber ekonomi

- 26 Antara tahun 1831 hingga tahun 1832, British menghadapi tentangan daripada Penghulu Dol Said di Naning

Mengapakah British ditentang di wilayah tersebut?

- A Pembinaan balai polis
- B Mencabuli perjanjian damai
- C Arahan membayar ufti tahunan
- D Pengenalan peraturan tanah

- 27 Kata perbilangan adat berikut diamalkan oleh masyarakat Malayu di Negeri Sembilan.

Alam beraja Luak berpenghulu Suku berlembaga Anak buah berbuapak

Apakah kesimpulan yang dapat dibuat tentang masyarakat tersebut?

- A Mendukung prinsip raja berkuasa mutlak
- B Mementingkan kecemerlangan individu
- C Mengutamakan semangat bermuafakat
- D Melaksanakan undang - undang yang ketat

28 Badan berikut ditubuhkan di negeri Johor pada abad ke-19.

Majlis Negeri

Berdasarkan Undang - undang Tubuh Negeri Johor 1895, apakah syarat untuk menjadi ahli badan tersebut?

- I Kerabat raja yang memerintah
 - II Keturunan bangsawan
 - III Beragama islam
 - IV Bangsa Melayu
-
- A I dan II
 - B I dan IV
 - C II dan III
 - D III dan IV

29 Mengapakah pertubuhan berikut menyokong Malayan Union?

- Angkatan Pemuda Insaf (API)
- Angkatan Wanita Sedar (AWAS)

- A Mendukung sistem pemerintahan beraja
- B Menyanjung sistem pentadbiran Barat
- C Kemasukan imigran disekat
- D Hak masyarakat Melayu dilindungi

30 Mengapakah orang Melayu menerima Persekutuan Tanah Melayu 1948 berbanding Malayan Union?

- A Raja berkuasa mutlak
- B Hak istimewa terjamin
- C Syarat kerakyatan longgar
- D Pengagihan kuasa ditamatkan

31 Maklumat berikut berkaitan fungsi Suruhanjaya Reid.

- Menetapkan kuasa Kerajaan Pusat dan kuasa Kerajaan Negeri
- Mewujudkan rupa bangsa Persekutuan Tanah Melayu
- X

Apakah X ?

- A Menentukan sempadan negeri
- B Menetapkan syarat kerakyatan
- C Merangka perlembagaan negara
- D Mencadangkan tarikh pilihan raya

- 32 Maklumat berikut berkaitan dengan sistem pentadbiran British.

Tahun	Sistem Yang Diperkenalkan
1951	Sistem Ahli

Apakah manfaat pengenalan sistem tersebut kepada rakyat Tanah Melayu?

- A Berhak mengawal kewangan
 - B Berkuasa menentukan dasar
 - C Memperkukuh penguasaan politik
 - D Menimba pengalaman mentadbir kerajaan
- 33 Singapura menunjukkan minat untuk bergabung dengan Persekutuan Tanah Melayu sejak tahun 1950-an lagi.

Mengapakah Singapura berminat dengan penggabungan tersebut?

- A Memberi kerakyatan kepada orang dagang
 - B Mengurangkan perasaan perkauman
 - C Mempercepatkan proses kemerdekaan
 - D Mempertahankan sistem monarki
- 34 Mengapakah tarikh pembentukan Malaysia ditunda dari 31 Ogos 1963 ke 16 September 1963?

- A Sekatan ekonomi negara lain
- B Tentangan negara jiran
- C Serangan Tentera Nasional Kalimantan Utara
- D Halangan Pertubuhan Bangsa -Bangsa Bersatu

- 35 Sejak merdeka, Malaysia telah mengamalkan sistem Demokrasi Berparlimen. Pernyataan manakah yang berkaitan dengan sistem tersebut?

- A Perlembagaan ditetapkan oleh Yang di-Pertuan Agong
- B Badan Kehakiman menggubal undang- undang
- C Pentadbiran dikuasai monarki berkuasa mutlak
- D Rakyat terlibat dalam pemerintahan negara

36 Pilihan raya di Malaysia dikendalikan oleh Suruhanjaya Pilihan Raya (SPR).
Apakah fungsi SPR?

- I Memilih calon
- II Menetapkan parti
- III Menetapkan sempadan
- IV Mendaftar pemilih

- A I dan II
- B I dan IV
- C II dan III
- D III dan IV

37 Apakah matlamat kerajaan memperkenalkan Dasar Ekonomi Baru pada tahun 1970?

- I Membasmi kemiskinan
- II Menyusun semula masyarakat
- III Menyeragamkan sistem kewangan
- IV Menyekat kemasukan imigran

- A I dan II
- B I dan IV
- C II dan III
- D III dan IV

38 Apakah matlamat penubuhan agensi berikut ?

- | |
|---|
| <ul style="list-style-type: none">• Majlis Amanah Rakyat (MARA)• Lembaga Kemajuan Tanah Persekutuan (FELDA) |
|---|

- A Memacu pertumbuhan sektor perindustrian baharu
- B Meningkatkan taraf hidup masyarakat luar bandar
- C Mengurangkan beban kewangan kerajaan
- D Menggiatkan peranan sektor swasta

39 Negara berikut telah menganggotai Kumpulan G15 (G15)

- Malaysia
- Yugoslavia
- Nigeria

Apakah hasrat negara - negara tersebut?

- A Mengawal kawasan perairan bersama
- B Mewujudkan pakatan tentera antarabangsa
- C Mewujudkan sistem mata wang yang seragam
- D Mengurangkan pergantungan terhadap negara maju

40 Jerman telah melanggar syarat- syarat Perjanjian Versailles yang ditandatangani pada tahun 1919.

Bagaimanakah negara tersebut melanggar syarat- syarat Perjanjian Versailles ?

- A Memperkuat angkatan tentera
- B Menjalinkan kerjasama dengan Russia
- C Menamatkan hubungan diplomatik
- D Mengeksport senjata ke luar negara

KERTAS PEPERIKSAAN TAMAT

SKEMA JAWAPAN KERTAS 1
SPM 2018

NO	JAWAPAN	MUKA SURAT
1	B	33
2	A	24
3	C	43
4	A	46
5	D	77
6	D	20 & 76
7	B	102
8	C	112
9	D	118
10	C	129
11	B	163
12	D	159
13	A	187
14	A	186
15	B	201
16	A	190
17	A	236
18	A	237
19	C	248
20	C	250
21	D	19
22	C	11
23	B	6
24	A	34
25	D	12
26	C	32
27	C	88
28	D	82
29	B	100
30	B	107-109
31	C	125
32	D	117
33	C	139
34	B	152
35	D	161
36	D	177
37	A	197 & 201
38	B	200
39	D	250
40	A	232

A = 10

B = 9

C = 10

D = 11